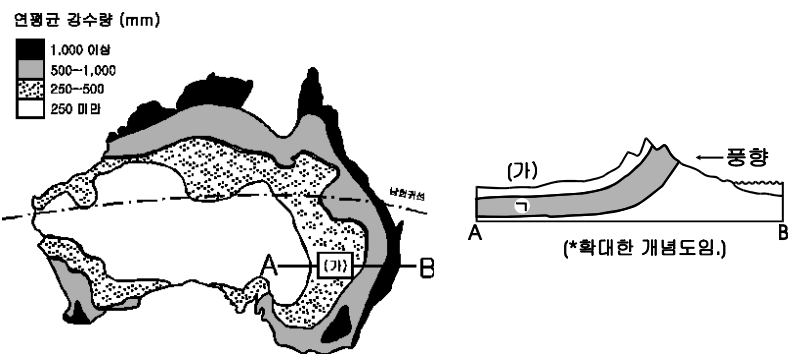


**선택과목**

**세 계 지 리**

71. 다음 지도와 단면도를 보고, (가) 지역에서 찬정을 이용한 목축업의 발달에 영향을 미친 지리적 요소들을 추론한 것 중 잘못된 것은? [1점]



- ① ㄱ 지층은 투수층이므로 지하수가 쉽게 유입된다.
- ② 산맥의 동사면은 바람받이로 강수량이 매우 많다.
- ③ 지하수 공급은 하계 몬순에 의한 집중 강우로 이루어진다.
- ④ ㄱ 지층은 강수량이 많은 동부의 고산지에 노출되어 있다.
- ⑤ 이 지역의 지하에는 산지로부터 공급되는 지하수가 풍부하다.

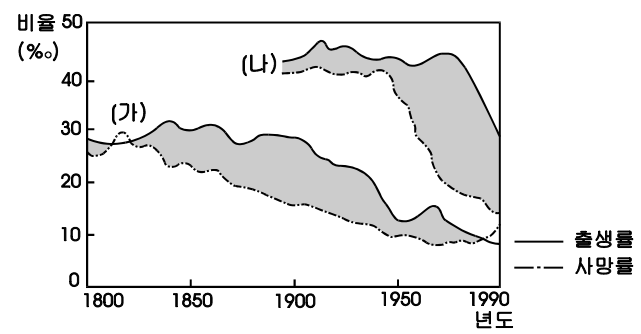
72. 지도는 세계 사막의 분포를 나타낸 것이다. (가)와 (나) 사막의 주된 형성 원인을 <보기>에서 골라 바르게 짝지은 것은?

< 보 기 >

ㄱ. 열대성 저기압의 발달로 형성되었다.  
 ㄴ. 해양으로부터 멀리 떨어져 수분 공급 부족으로 형성되었다.  
 ㄷ. 대기 순환 과정에서 아열대 고기압대에 위치하여 형성되었다.  
 ㄹ. 한류의 유입으로 해안 지역에 고기압이 발달하여 형성되었다.

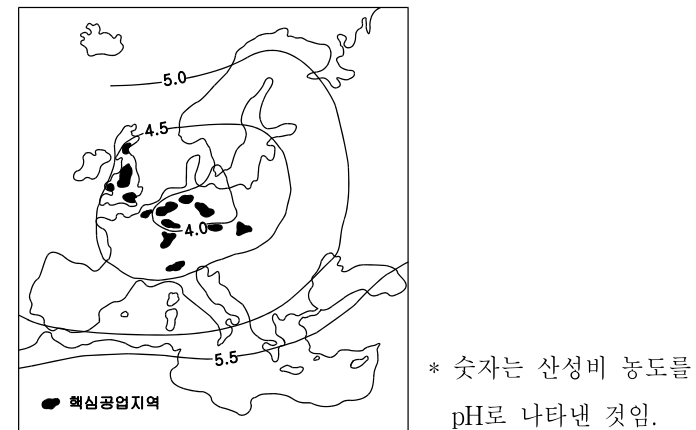
- |   |     |     |
|---|-----|-----|
|   | (가) | (나) |
| ① | ㄱ   | ㄴ   |
| ② | ㄱ   | ㄷ   |
| ③ | ㄴ   | ㄹ   |
| ④ | ㄷ   | ㄴ   |
| ⑤ | ㄹ   | ㄱ   |

73. (가)와 (나) 국가의 인구 변천 그래프에 관한 설명 중 바른 것은? [2점]



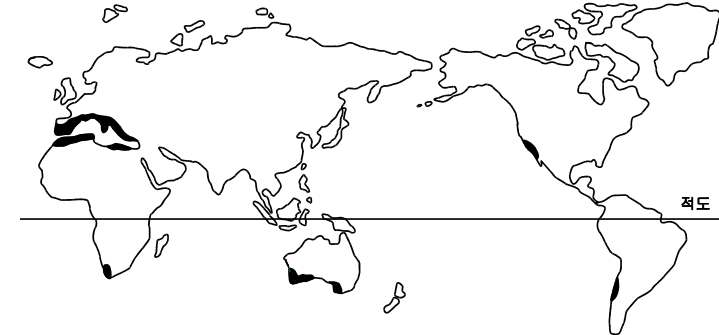
- ① (가) 국가와 같은 유형은 유럽의 선진국에서 나타났다.
- ② (가) 국가는 19세기 중반 인구가 급격히 감소하였다.
- ③ (나) 국가는 (가) 국가에 비하여 노년 인구 비율이 높다.
- ④ (가) 국가는 (나) 국가에 비하여 급격한 인구 성장을 기록하였다.
- ⑤ (나) 국가는 최근 인구 감소가 심하여 출산 장려책을 실시하고 있다.

74. 다음 지도를 보고, 유럽의 기후와 지형 조건을 고려하여 바르게 추론한 것은?



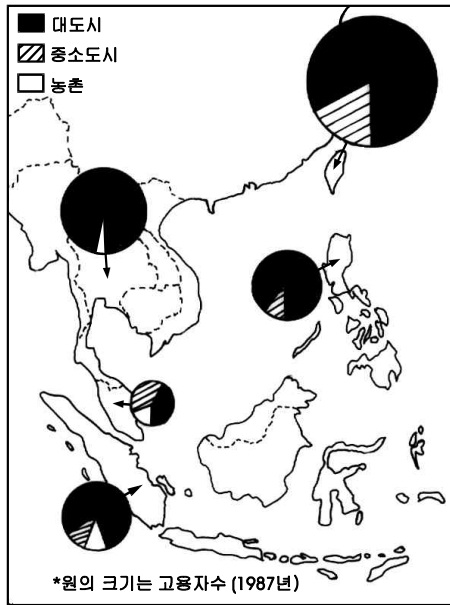
- ① 산성비의 강도는 공업 발달과 무관하다.
- ② 독일의 삼림 지대는 산성비 피해가 심하다.
- ③ 알프스 지역은 고산지대이므로 산성비 피해가 없다.
- ④ 수력 발전을 이용하는 스칸디나비아에서는 산성비의 피해가 없다.
- ⑤ 영국의 산성비 피해는 주로 캐나다에서 이동해 온 오염 물질 때문이다.

75. 지도에 검게 표시된 지역에 공통적으로 나타나는 지리적 특성을 바르게 설명한 것은? [2점]



- ① 인구 밀도가 낮다.
- ② 세계적인 천연 고무 생산지이다.
- ③ 포드졸 토양이 매우 넓게 분포한다.
- ④ 여름은 고온 건조하며 겨울은 온난 다습하다.
- ⑤ 우리 나라와 같이 여름에 태풍의 피해가 심하다.

76. 다음 지도는 아시아 국가들에 진출한 일본 기업의 국가별 고용 규모와 입지 특성을 보여주고 있다. 이 지도로부터 도출할 수 있는 내용으로 가장 적절한 것은?



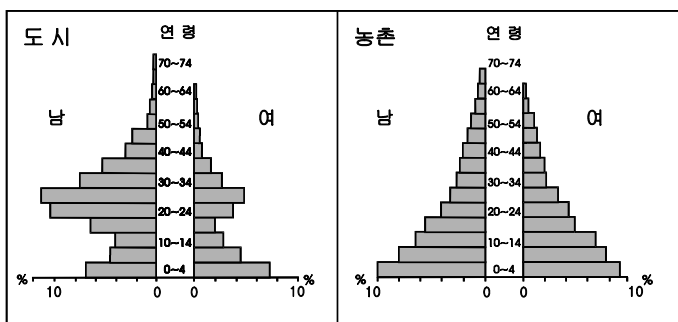
- ① 주로 이슬람 문화권에 입지하고 있다.
- ② 주로 플랜테이션 농업 지역에 입지하고 있다.
- ③ 주로 노동력이 풍부한 도시에 입지하고 있다.
- ④ 1인당 GNP가 낮은 국가일수록 고용 규모가 크다.
- ⑤ 천연 자원이 풍부한 국가에 가장 많이 입지하고 있다.

77. 다음 지도는 두 소수 집단의 분포를 나타낸 것이다. 바르게 설명한 것은?



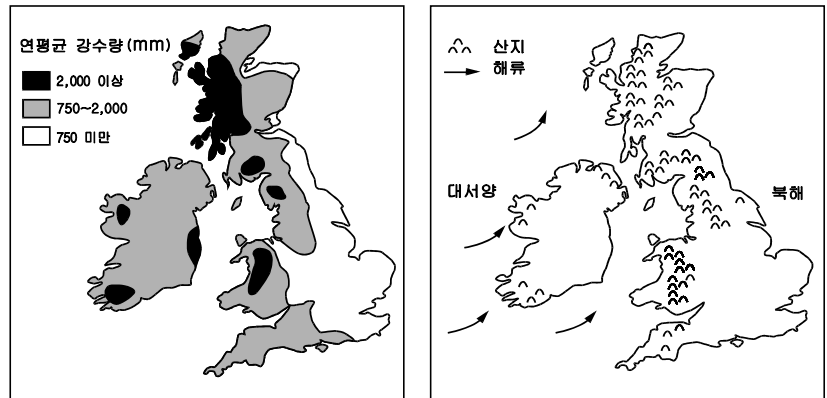
- ① 금광 개발이 활발한 지역에 흑인이 집중 분포한다.
- ② 강수량이 많은 지역에 에스파냐계가 집중 분포한다.
- ③ 제철 산업이 발달한 지역에 에스파냐계가 집중 분포한다.
- ④ 두 소수 집단은 모두 멕시코 전쟁으로 합병한 지역에 집중 분포한다.
- ⑤ 노예 노동력이 대규모로 유입되었던 지역에 흑인이 집중 분포한다.

78. 다음은 잠비아의 어느 해 인구 피라미드를 나타낸 것이다. 바르게 추론한 것은?



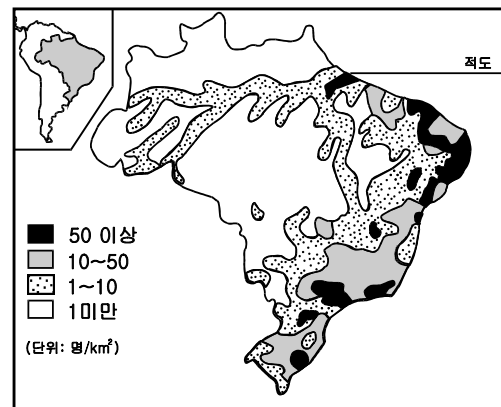
- ① 농촌은 도시에 비하여 출생률이 낮다.
- ② 주로 젊은 연령층이 농촌을 떠나 도시로 이주한다.
- ③ 여자는 남자에 비하여 상대적으로 이주가 자유롭다.
- ④ 농촌의 생활 수준이 도시보다 높아 이촌향도 인구수가 극히 적다.
- ⑤ 잠비아의 농촌 인구 피라미드 형태는 현재 우리 나라의 그것과 매우 흡사하다.

79. 지도를 보고 이 지역의 강수량 분포에 영향을 미친 지리적 요인을 바르게 추론한 것은?



- ① 남동 해안으로 부는 고온 다습한 치누크의 영향을 받기 때문에
- ② 편서풍이 남북으로 발달한 산맥의 서사면에 많은 비를 내리기 때문에
- ③ 북해를 흐르는 난류의 영향으로 동부 해안의 대기가 온난다습하기 때문에
- ④ 여름철 태풍의 영향으로 남서 해안에 집중 호우가 많이 발생하기 때문에
- ⑤ 북대서양에 흐르는 한류의 영향으로 북서 해안에 찬기류가 잘 발달하기 때문에

80. 인구 밀도를 나타낸 다음 지도를 보고 바르게 추론한 것을 <보기>에서 모두 고르면? [1점]



< 보기 >

- ㄱ. 해안의 도시 지역으로 이촌향도 현상이 일어난다.
- ㄴ. 대도시는 주로 건조한 셀바스 지역에 발달해 있다.
- ㄷ. 기업적 목축업이 이루어지는 내륙 지역은 인구 밀도가 낮다.
- ㄹ. 삼림 자원이 풍부한 아마존강 유역에서 인구 밀도가 가장 높다.

- ① ㄱ, ㄷ    ② ㄱ, ㄹ    ③ ㄴ, ㄷ    ④ ㄴ, ㄹ    ⑤ ㄷ, ㄹ

\* 확인 사항

- 문제지와 답안지의 해당란을 정확히 기입(표기)했는지 확인하시오.
- 문제지는 답안지와 함께 제출합니다. 답안지의 표기가 끝나면 답안지는 오른쪽, 문제지는 왼쪽에 놓으시오.